

第四章 电流



§ 4-1 电流的描述

§ 4-2 物质中的电流

§ 4-3 稳恒电路

回顾

■ 欧姆定律 $\vec{j} = \sigma \vec{E}$

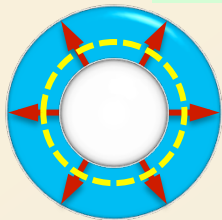
“一般”, $\vec{j} = \sigma \vec{f}$

■ 功率密度 $p \equiv \vec{E} \cdot \vec{j}$

■ 焦耳定律(微分形式) $p = \sigma E^2 = j^2 / \sigma$ 条件: 欧姆型导体


■ 焦耳定律(积分形式) $V = IR$ 条件: 稳恒电流

■ 电阻 $R \equiv \frac{\varphi_1 - \varphi_2}{I} = \frac{V}{I}$ 取决于 导电材料的性质
电流在其中的分布



$$R = \int_1^2 \frac{\rho dl}{S_{\perp}}$$

条件: 每一横截面上电流均匀



$$R = \frac{\rho L}{S_{\perp}}$$

条件: 截面相同的均匀材料

回顾

■ 导电介质中的基本方程

■ 环路定理 $\oint_C \vec{E} \cdot d\vec{l} = 0$



$$\nabla \times \vec{E} = 0, \quad \hat{n} \times (\vec{E}_2 - \vec{E}_1) = 0$$

■ 稳恒条件 $\oiint_S \vec{j} \cdot d\vec{S} = 0$



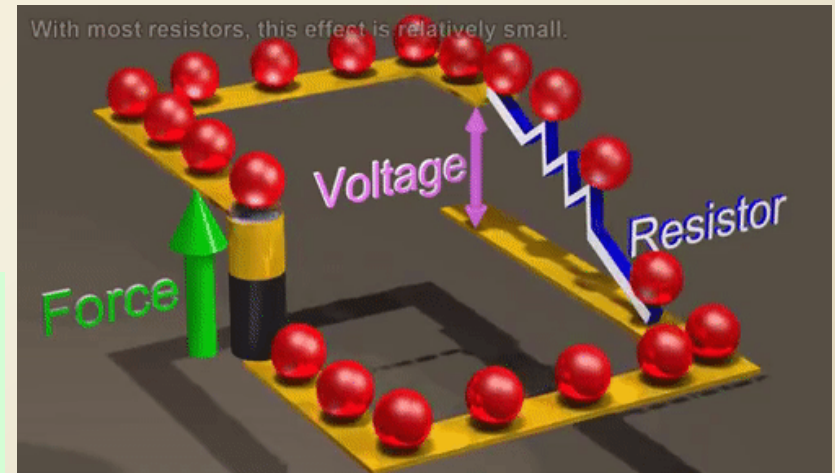
$$\nabla \cdot \vec{j} = 0, \quad \hat{n} \cdot (\vec{j}_2 - \vec{j}_1) = 0$$

■ 本构方程 $\vec{j} = \sigma \vec{E}$

■ 全欧姆定律 $\vec{j} = \sigma (\vec{E} + \vec{K})$

■ 电动势 $\varepsilon \equiv \int_{\text{负极(内)}}^{\text{正极}} \vec{K} \cdot d\vec{l}$

■ 路端电压 $V \equiv \varphi_+ - \varphi_- = \int_{\text{正极}}^{\text{负极}} \vec{E} \cdot d\vec{l}$



开路时的路端电压

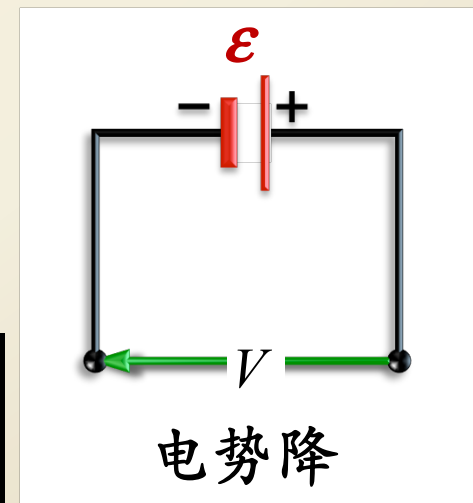
$$\vec{j} = \sigma(\vec{E} + \vec{K}) \quad \longrightarrow \quad \vec{E} = \rho\vec{j} - \vec{K}$$

$$\longrightarrow V = \begin{cases} \int_{+(内)}^- \vec{E} \cdot d\vec{l} = \int_{+(内)}^- \rho\vec{j} \cdot d\vec{l} - \int_{+(内)}^- \vec{K} \cdot d\vec{l} = \varepsilon + \int_{+(内)}^- \rho\vec{j} \cdot d\vec{l} \\ \int_{+(外)}^- \vec{E} \cdot d\vec{l} = \int_{+(外)}^- \rho\vec{j} \cdot d\vec{l} \end{cases}$$

■ 开路时，由于 $j=0$ ，因而

$$V = \varepsilon + \int_{+(内)}^- \rho\vec{j} \cdot d\vec{l} = \varepsilon$$

电场做积分时，
若线元从电源正极指向负极，
则非静电力对于电势降的贡献为 $+\varepsilon$



电源放电时的路端电压

- **电源放电**：电源内部电流由负极指向正极

$$\varepsilon - Ir = IR$$



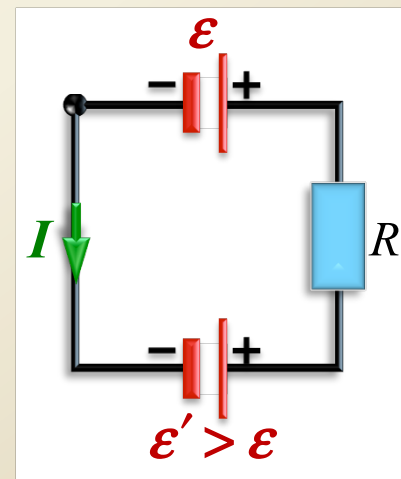
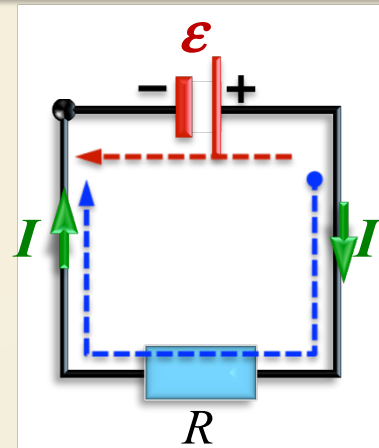
$$I = \varepsilon / (R + r)$$

- **电源充电**：电源内部电流由正极流向负极

$$I = \frac{\varepsilon' - \varepsilon}{R + r + r'}$$

- 若 $\varepsilon' > \varepsilon$ ，电流方向与图示一致：电源 ε 充电，电源 ε' 放电

- 若 $\varepsilon' < \varepsilon$ ，电流方向与图示相反：电源 ε 放电，电源 ε' 充电




基尔霍夫定律定律

■ 1845年，基尔霍夫还在读大学时，就发展了稳恒电路网络中电流、电压和电阻关系的两条定律（即**基尔霍夫定律**），对电路理论做出了重大贡献。

■ 1859年，基尔霍夫发明了分光仪，与本生一道创立了光谱分析法，并发现了元素铯和铷。

■ 1859年，他又发现了**基尔霍夫辐射定律**：任何物体的发射与吸收本领与物质特性无关，是波长和温度的普适函数。并由此推断：太阳光谱的暗线是太阳大气中元素吸收的结果，给太阳和恒星成分分析提供了一种新方法，使天体物理进入了新时代。

■ 1862年，基尔霍夫又进一步得出**绝对黑体**的概念。这一概念和他的热辐射定律是开辟20世纪物理学新纪元的关键之一。由于他在光谱分析方面的杰出贡献，他和本生于1877年分享了第一届戴维奖。



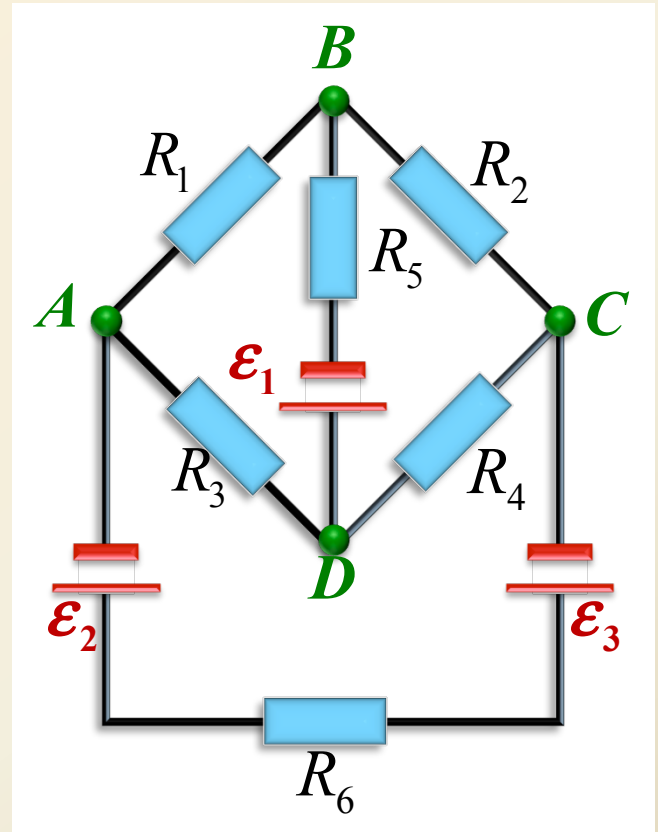
基尔霍夫定律的基本思想

■ 欧姆定律只能用于解比较简单的电路。复杂的电路，往往有许多条导线交汇于一点，整个电路由若干个闭合回路组成，同一回路的各段电路中的电流并不相同。对于这类复杂电路，欧姆定律无法解决。

■ 1847年基尔霍夫给出了求解一般复杂电路的基尔霍夫方程组，它包括节点电流方程和回路电压方程，前者是稳恒电流条件下任意闭合曲面内电荷守恒的结果，后者是稳恒电场环路积分为零（即静电场环路定理）的结果，两者构成了完备的方程组，原则上可以解决任何直流电路问题。

电路基本术语

- **节点**：在电路中，三条或更多导线的汇合点，如点 A 、 B 、 C 、 D ($N=4$)
- **支路**：相邻两节点间由电源和电阻串联而成、不含其它节点的通路，如 AB 、 BD 、 DC 等 ($E=6$)
- **回路**：起点和终点重合在一个节点的环路，如环路 $ABDA$ 、 $BCDB$ 、 $ABCD$ 等。
- **平面电路**：电路中的支路和节点都在一个平面上 (图示电路的网孔数为 $L=3$)
- **非平面电路**：电路中的支路存在相互跨越的情况



独立回路

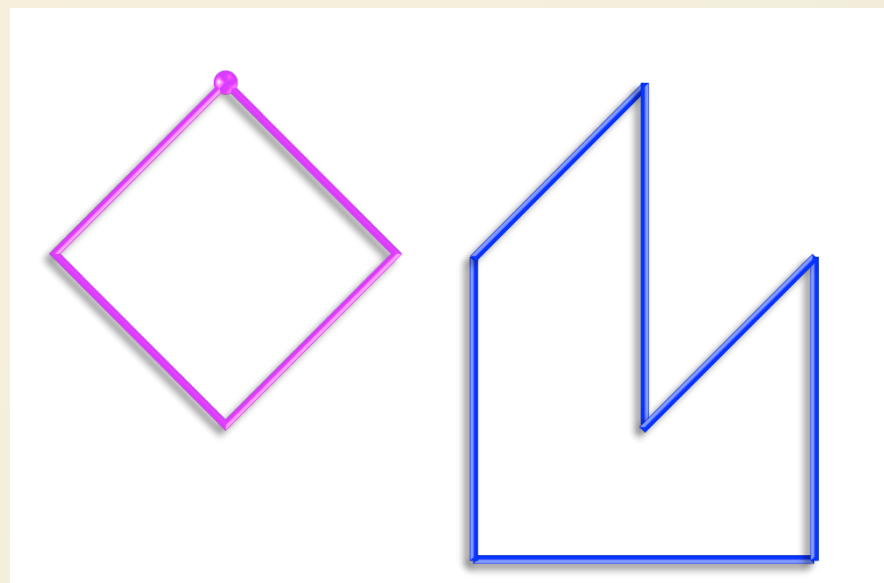
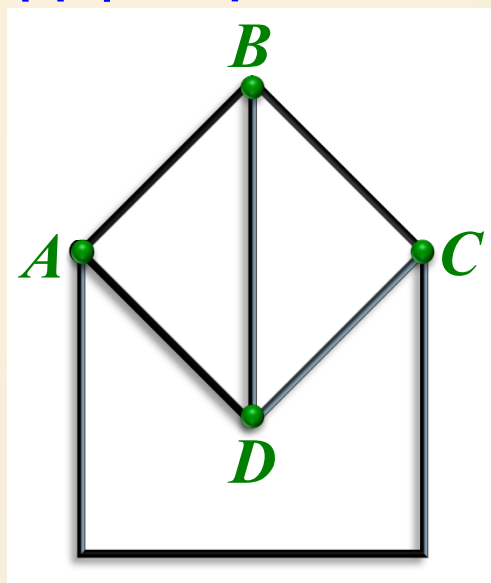
■ **独立回路**：独立回数减-1 = 支路数减去节点数

$$l = E - N + 1$$

对于平面回路，等于网孔数目

问题：若一组回路包含了所有支路，且不同回路至少有一条不同支路，这样可以得到所有的独立回路吗？

答案：未必！



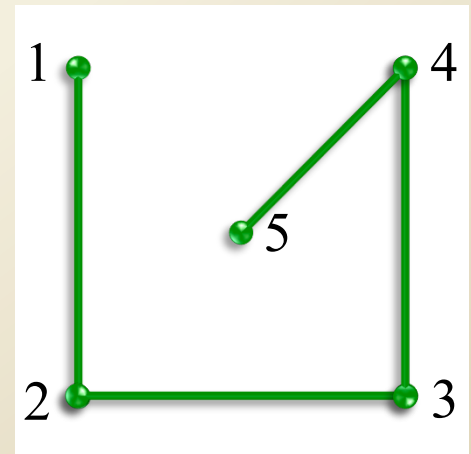
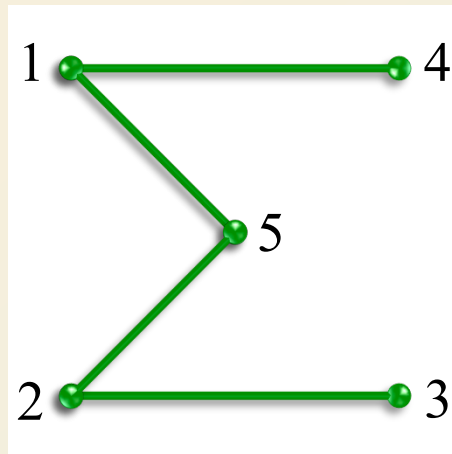
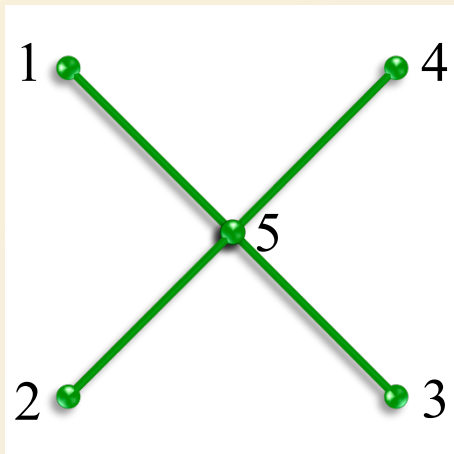
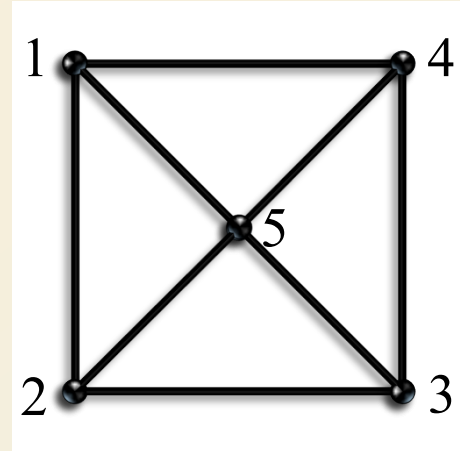
连通图与树

■ **连通图 G** ：任两节点都可以通过若干支路连接

■ **树 T** ：连通图 G 的一个连通子图，要求 T 包含 G 的全部节点但却不包含任何回路。

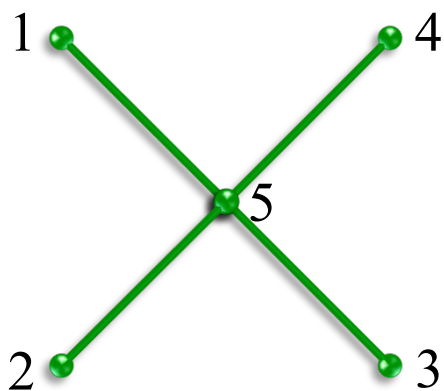
■ **G 的树枝**：连通图 G 中构成树 T 的支路。

■ **G 的连支**：连通图 G 中不属于 T 的支路。



基本回路

- **基本回路**：只含一个连支的回路称为单连支回路或基本回路
- **基本回路组**：由全部单连支形成的基本回路构成基本回路组

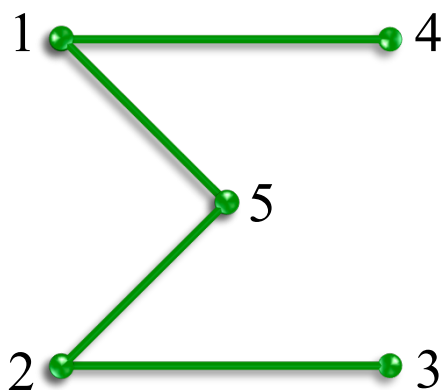


$$1 \rightarrow 2 \rightarrow 5 \rightarrow 1$$

$$2 \rightarrow 3 \rightarrow 5 \rightarrow 2$$

$$3 \rightarrow 4 \rightarrow 5 \rightarrow 3$$

$$4 \rightarrow 1 \rightarrow 5 \rightarrow 4$$



$$1 \rightarrow 2 \rightarrow 5 \rightarrow 1$$

$$3 \rightarrow 5 \rightarrow 2 \rightarrow 3$$

$$4 \rightarrow 5 \rightarrow 1 \rightarrow 4$$

$$3 \rightarrow 4 \rightarrow 1 \rightarrow 5 \rightarrow 2 \rightarrow 3$$

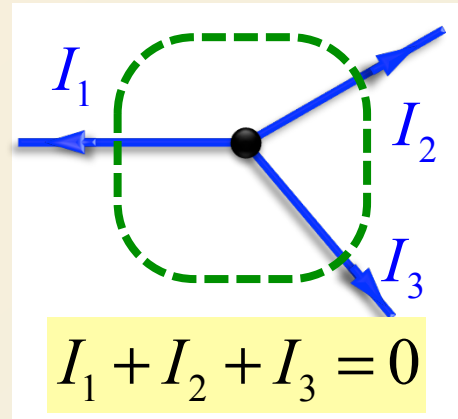
基本回路组可以
作为独立回路组；
选择不同的树，
基本回路组不同。

基尔霍夫第一定律

■ 基尔霍夫第一定律(节点定律)

汇于任一节点的各电流代数和等于零

$$\sum_k I_k = 0 \quad \text{约定：流出为正；流入为负}$$



■ 基尔霍夫第一定律的本质

是电荷守恒定律和稳恒电流条件

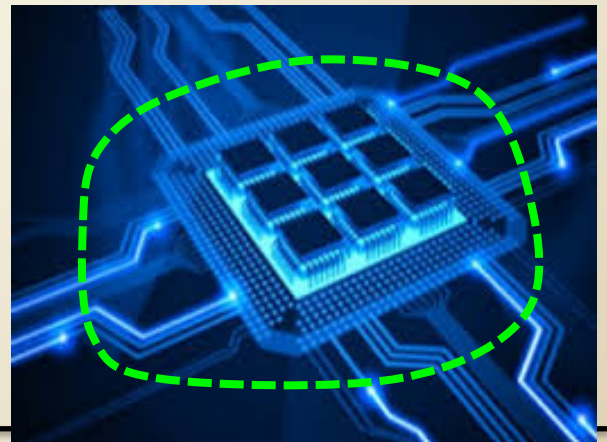
$$\oiint \vec{j} \cdot d\vec{S} = 0$$

■ 节点定律也可以表示为 $\sum I_{\text{出}} = \sum I_{\text{入}}$

如何取正负号？

■ 对于 N 个节点的连通电路，可列出 N 个节点方程，但是，其中只有 $(N-1)$ 个是独立的。

■ 适用于广义节点



基尔霍夫第二定律

■ 基尔霍夫第二定律(回路定律)

沿着任意闭合回路的电势降的代数和为零

$$\sum V = \sum (\pm \varepsilon \pm Ir \pm IR) = 0$$

积分路径从电源正极指向负极，电势降为 $+\varepsilon$

积分路径与流经电阻的电流方向一致时，电势降为 $+IR$

流经支路电流的方向可任意设定，由结果正负确定实际方向

■ 基尔霍夫第二定律的本质是稳恒电场的无旋性和欧姆定律

$$\oint \vec{E} \cdot d\vec{l} = 0, \vec{j} = \sigma(\vec{E} + \vec{K})$$

■ 回路定律给出的独立方程数目等于独立回路数目

基尔霍夫定律提供的独立方程数目等于支路数目

基尔霍夫定律提供了求解稳恒电路问题的完备方程

支路电流法

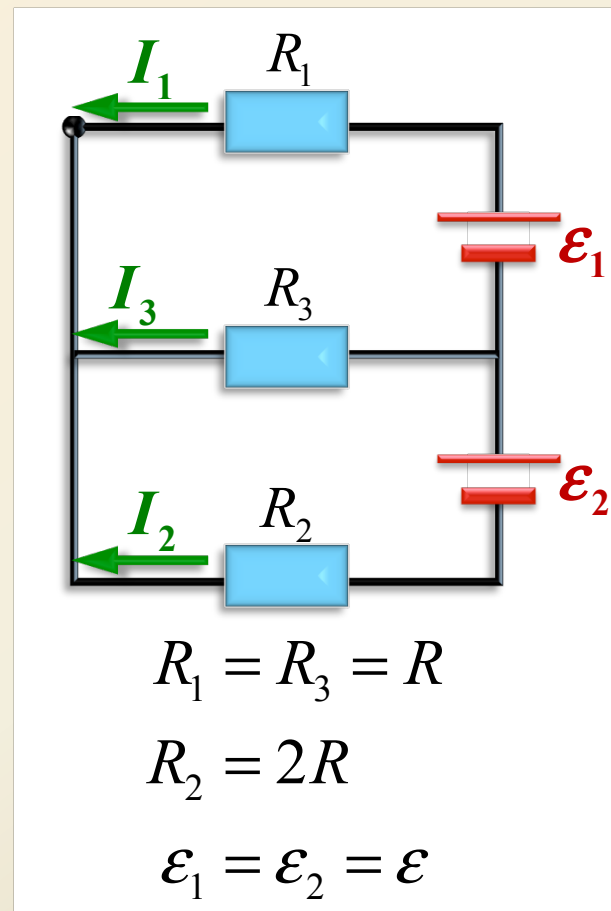
■ 设各支路电流如图所示

节点定律: $I_1 + I_2 + I_3 = 0$

回路定律: $I_1 R_1 - I_3 R_3 = \varepsilon_1$
 $I_3 R_3 - I_2 R_2 = \varepsilon_2$

→
$$\begin{cases} I_1 + I_2 + I_3 = 0 \\ I_1 - I_3 = \frac{\varepsilon}{R} \\ I_3 - 2I_2 = \frac{\varepsilon}{R} \end{cases}$$

→
$$I_1 = \frac{4\varepsilon}{5R}, \quad I_2 = -\frac{3\varepsilon}{5R}, \quad I_3 = -\frac{1\varepsilon}{5R}$$



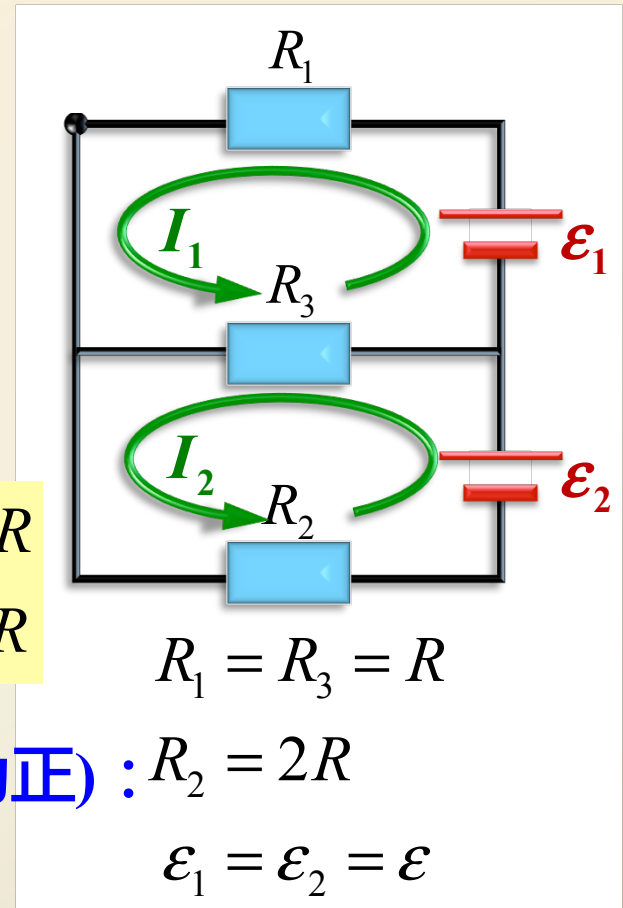
回路电流法

■ 设定每个独立回路的绕行方向以及与绕行方向一致的回路电流，只用回路定律便可解出回路的电流。然后再用已得回路电流求出各支路电流，这样求得的支路电流将自动满足节点定律。

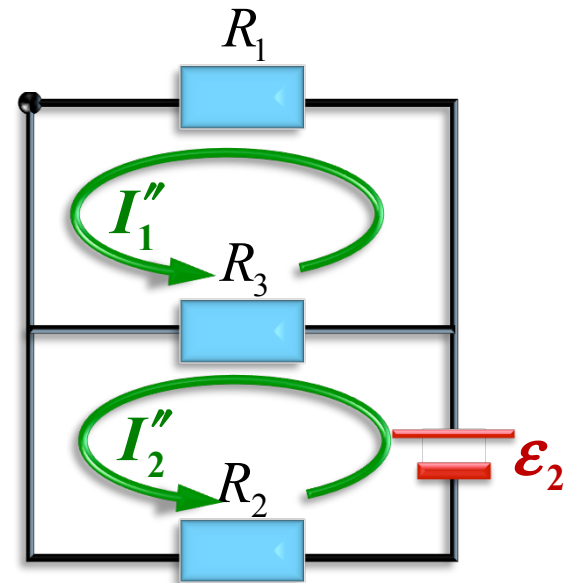
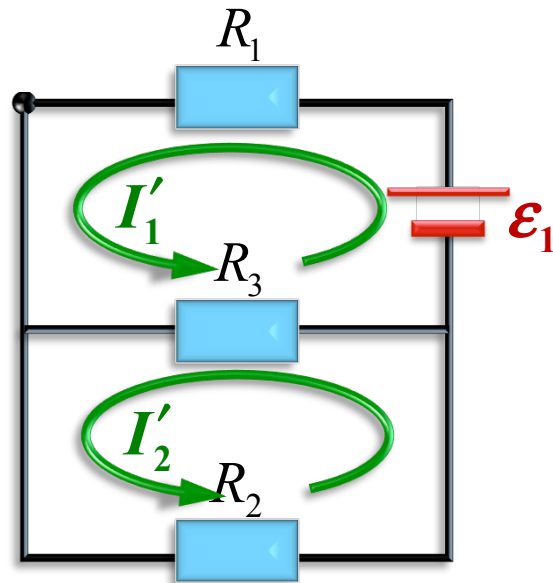
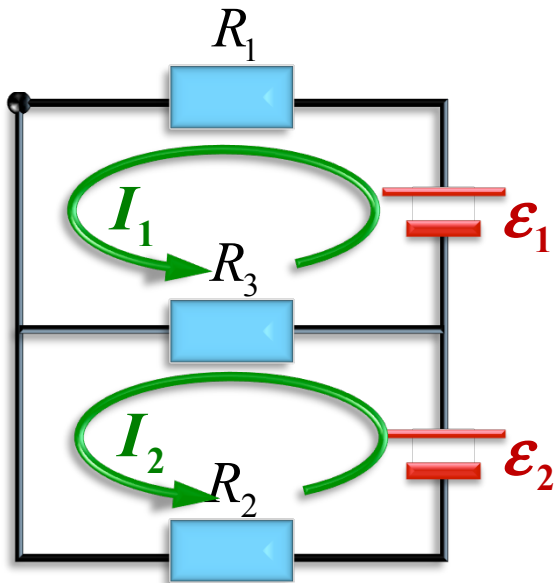
$$\begin{cases} -\varepsilon_1 + I_1 R_1 + (I_1 - I_2) R_3 = 0 \\ -\varepsilon_2 + I_2 R_2 - (I_1 - I_2) R_3 = 0 \end{cases} \rightarrow \begin{cases} I_1 = 4\varepsilon/5R \\ I_2 = 3\varepsilon/5R \end{cases}$$

■ 流经 R_1 、 R_2 和 R_3 的电流分别为(向左为正)： $R_2 = 2R$

$$I_1 = \frac{4\varepsilon}{5R}, \quad -I_2 = -\frac{3\varepsilon}{5R}, \quad I_2 - I_1 = -\frac{1\varepsilon}{5R}$$



叠加原理



$$2I_1 - I_2 = \varepsilon/R$$

$$3I_2 - I_1 = \varepsilon/R$$

$$I_1 = \frac{4\varepsilon}{5R}, \quad I_2 = \frac{3\varepsilon}{5R}$$

$$2I'_1 - I'_2 = \varepsilon/R$$

$$3I'_2 - I'_1 = 0$$

$$I'_1 = \frac{3\varepsilon}{5R}, \quad I'_2 = \frac{\varepsilon}{5R}$$

$$2I''_1 - I''_2 = 0$$

$$3I''_2 - I''_1 = \varepsilon/R$$

$$I''_1 = \frac{\varepsilon}{5R}, \quad I''_2 = \frac{2\varepsilon}{5R}$$

例：一立方体，每边的电阻都为 r ，求对角线之间的电阻。

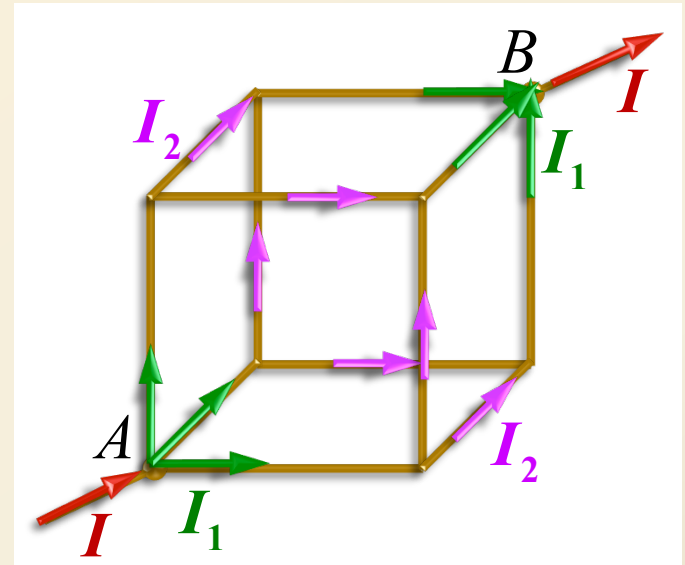
解：假设电流 I 由 A 点流入， B 点流出。

由对称性知： $I = 3I_1$ and $I_1 = 2I_2$

因而， A 与 B 的电势差为：

$$\begin{aligned} U_{AB} &= I_1 r + I_2 r + I_1 r \\ &= \frac{1}{3} I r + \frac{1}{6} I r + \frac{1}{3} I r = \frac{5}{6} I r \end{aligned}$$

→ $R_{AB} = \frac{U_{AB}}{I} = \frac{5}{6} r$



例：一个无限延展的矩形线圈平面网络，每边的电阻都为 r ，求任意相邻两点间的电阻。

解：由对称性和叠加原理

■ 情形1：电流 I 由 A 点流入，则

$$I'_{AB} = I/4$$

■ 情形2：电流 I 由 B 点流出，则

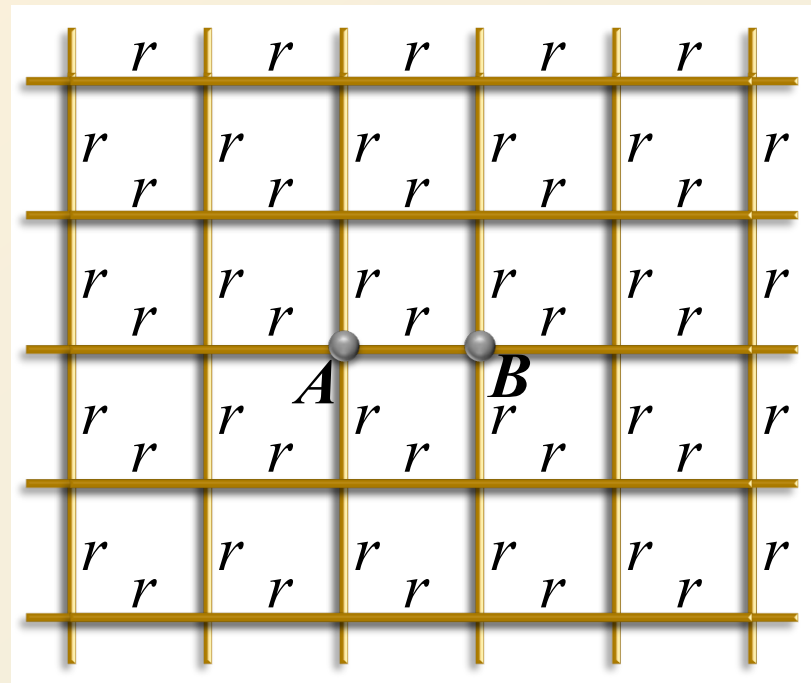
$$I''_{AB} = I/4$$

两者相加，有 $I_{AB} = I/2$

$$U_{AB} = IR_{AB} = I_{AB}r = \frac{1}{2}Ir$$

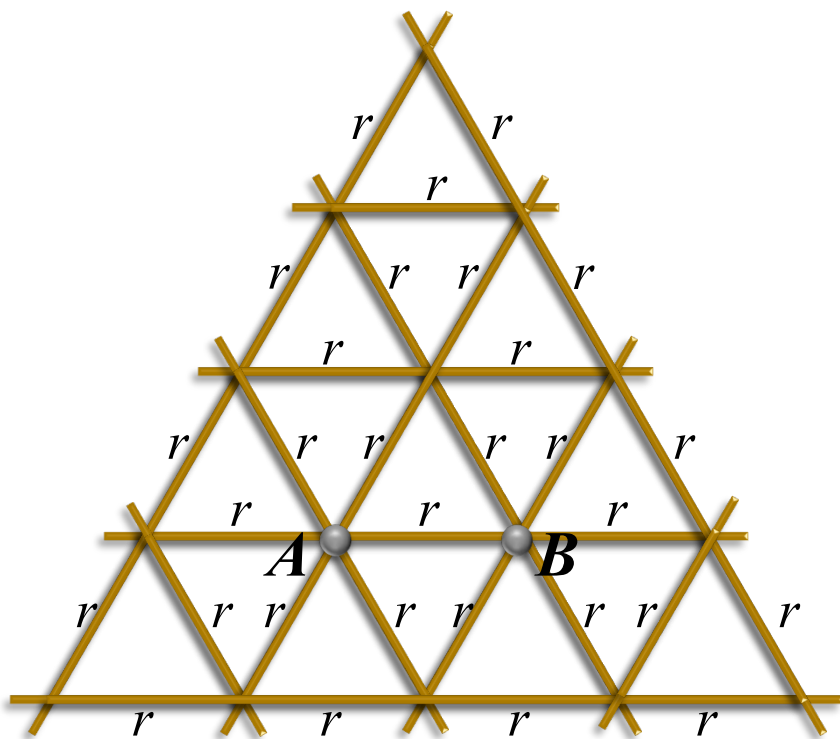


$$R_{AB} = \frac{1}{2}r$$

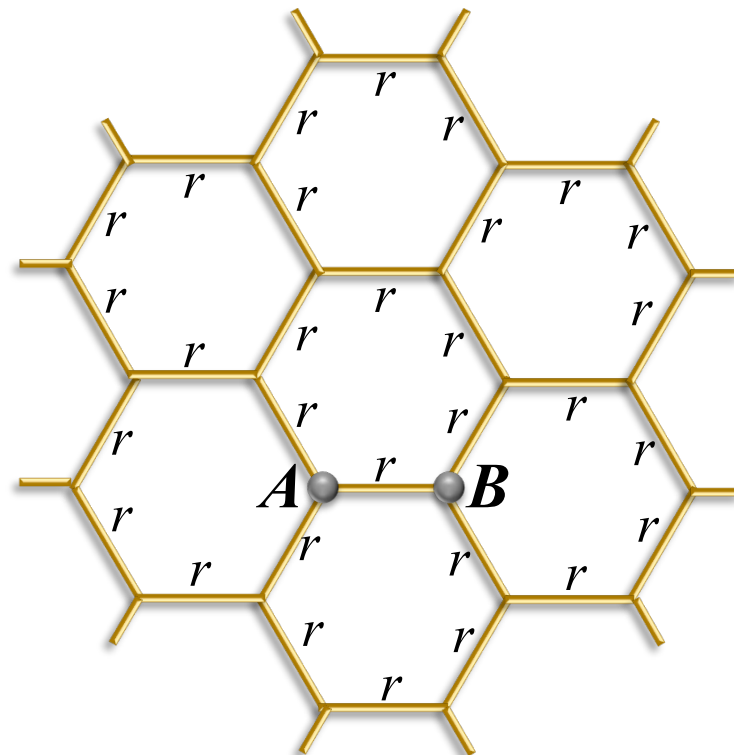


若把 AB 间的电阻 r 去掉， AB 间的等效电阻为多少？

若把 AB 间的电阻换成 R ， AB 间的等效电阻为多少？



$$R_{AB} = \frac{1}{3}r$$

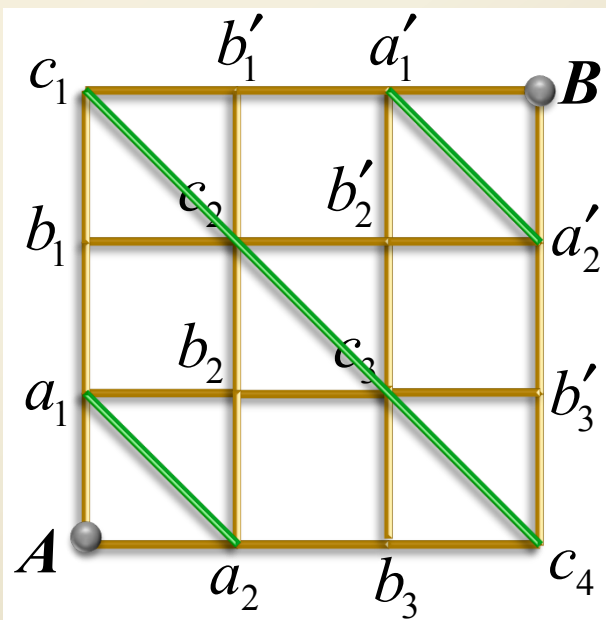
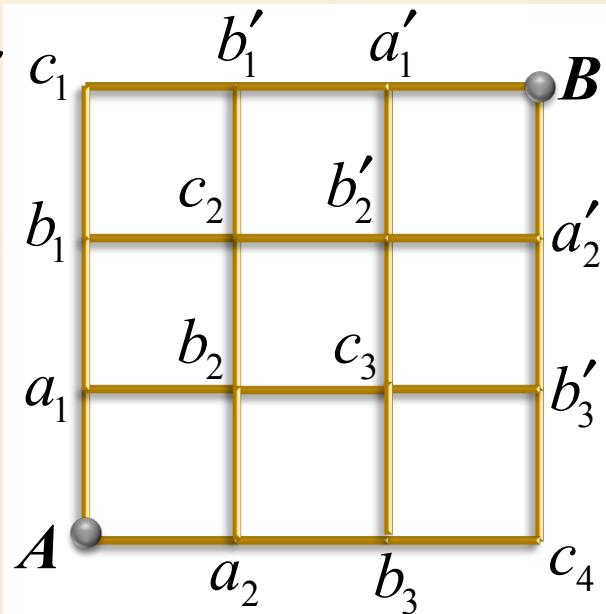


$$R_{AB} = \frac{2}{3}r$$

例：24个相同的电阻 r ，联结成每边三个电阻的正方格子，试求对角 A 、 B 间的电阻 R_{AB}

解： AB 间加压，由对称性知：

a_1 和 a_2 两点等势；各 c_k 点等势，故可连接起来，变为下图。



$$R_{AB} = 2 \times \left[\frac{1}{2} r + \frac{\left(\frac{r}{2} + \frac{r}{4} \right) \left(\frac{r}{2} + \frac{r}{2} \right)}{\left(\frac{r}{2} + \frac{r}{4} \right) + \left(\frac{r}{2} + \frac{r}{2} \right)} \right]$$

$$\rightarrow R_{AB} = 2 \times \left(\frac{1}{2} r + \frac{3}{7} r \right) = \frac{13}{7} r$$



Thank You!